

PROVA DE HISTÓRIA / GEOGRAFIA - 2001

1ª QUESTÃO

A primeira colônia da América Latina e a segunda do mundo a conseguir a sua independência foi o Haiti. A emancipação ocorreu em 1804 com a população local reagindo violentamente contra a estrutura colonial então vigente. Naquela época, a Metrópole que controlava o Haiti e a etnia predominante neste país eram, respectivamente:

- A. Espanha e indígenas.
- B. França e indígenas.
- C. Inglaterra e negros.
- D. Espanha e mestiços.
- E. França e negros.

2ª QUESTÃO

A Revolução Industrial, aliada aos princípios da Escola de Manchester, produziu grandes transformações econômicas, políticas e sociais no mundo de então.

As doutrinas anti-liberais, que surgiram no século XIX, encarnavam uma reação ao progresso industrial, propondo reformulações sociais e a construção de um mundo mais justo.

Cada movimento pautava seu ideário através de publicações e artigos que pudessem atingir a massa operária européia. Leia com atenção o trecho a seguir:

“ ... Com o desenvolvimento da grande indústria, desaparece debaixo dos pés da burguesia a base em que ela produz e se apropria dos produtos. Ela produz, antes do mais, o seu próprio coveiro. ...”

O fragmento acima foi retirado de uma publicação fundamental e traz, indiretamente, uma das idéias centrais do

- A. Anarquismo.
- B. Socialismo Cristão.
- C. Socialismo Utópico.
- D. Socialismo Científico.
- E. Sindicalismo.

3ª QUESTÃO

O trecho, citado abaixo, é uma adaptação da letra de "Spirit of Falklands" do grupo de rock inglês "New Model Army". Leia-o e responda o item a seguir.

"ESPÍRITOS DAS FALKLANDS"

"Homens morrendo no Atlântico Sul

Isto esquenta os nossos corações

Eles pensavam que estavam lutando por nós

Oh Deus, isto é uma farsa, isto é uma farsa

E agora isto se repete

Despertando as Falklands e os Espíritos das Falklands"

Fica evidente a referência a dois conflitos em que a Grã-Bretanha se envolveu nas ilhas Falklands. Estes conflitos, ocorridos em épocas distintas, são a

- A. guerra pela independência da América Latina contra a Espanha e a batalha das Falklands contra o Chile.
- B. batalha das Falklands contra a Alemanha na Primeira Guerra Mundial e a Guerra das Malvinas contra a Argentina.
- C. guerra contra os submarinos alemães na Segunda Guerra Mundial e a disputa das ilhas com a África do Sul.
- D. batalha do Atlântico Sul contra a França Napoleônica e a Guerra do Rio da Prata contra o Uruguai.
- E. disputa diplomática das ilhas com os EUA durante a crise de fronteiras com o Canadá e a guerra anglo-espanhola.

4ª QUESTÃO

O ano de 2000 se foi, o século XX terminou e o mundo não acabou, contrariando pessoas e seitas que acreditavam no “fim dos tempos”. Contudo, esses aspectos milenaristas e messiânicos não foram privilégios de tempos recentes. Pelo contrário, eles são recorrentes na história da humanidade.

Esses movimentos, que se traduziram por vezes em levantes que ameaçavam o *status quo* vigente, foram sempre vistos com desconfiança e duramente reprimidos.

Um teólogo no século XVI, Martinho Lutero, assim se expressava sobre uma dessas revoltas então em curso:

“Este é o tempo do gládio, da cólera e não o tempo da graça. Assim, caros senhores, livrai-nos; extermineis e aqueles que tem poder ajam (...). Ferir, estrangular, secreta ou publicamente, e fazê-los lembrar-se de que não há nada mais virulento, daninho e diabólico do que um homem revoltado.”

Martinho Lutero se referia aos

- A. Taboristas.
- B. Nestorianos.
- C. Arianistas.
- D. Nicoláístas.
- E. Anabatistas.

5ª QUESTÃO

“A revolução social do século XIX não pode extrair a sua poesia do passado, mas antes do futuro. (...) As revoluções anteriores tiveram necessidade das reminiscências históricas para se iludir quanto ao próprio conteúdo. (...) Dantes era a frase que superava o conteúdo, agora é o conteúdo que supera a frase”.

MARX, Karl, *O 18 Brumário de Luís Bonaparte*. Lisboa: Nosso Tempo, 1971, p. 18

O texto acima de Karl Marx alude ao golpe realizado por Luís Bonaparte que resultou na instauração do Segundo Império Francês. Longe de ser uma ocorrência fortuita, foi o resultado das lutas que a França atravessava desde os anos 1830.

A oposição ao Rei Luís Felipe, que levou à Revolução de 1848 na França era composta de várias correntes ou partidos. Um deles era o

- A. Democrata, que propunha uma maior participação do povo francês no governo.
- B. Sindicalista, que lutava pela tomada do poder pelos operários franceses.
- C. Imperialista, que pregava uma política de expansão colonial francesa.
- D. Legitimista, que desejava a volta da dinastia dos Bourbons ao trono.
- E. Anarquista, que pugnava pela extinção do governo central francês.

6ª QUESTÃO

A tabela abaixo apresenta algumas das operações realizadas na Campanha da África do Norte durante a Segunda Guerra Mundial. Os dados em negrito representam a aliança que conseguiu a vitória em cada uma das operações. Observe os dados oferecidos e responda o item a seguir:

Operação (data)	Efetivo (milhares de homens)	Carros de Combate	Aviões de Combate	Alianças Militares
Battleaxe (06/1941)	40	200	203	ALIADOS
	30	170	204	EIXO
Crusade (11/41-02/42)	120	700	1000	ALIADOS
	110	400	320	EIXO
Teseu (05-06/1942)	130	900	200	ALIADOS
	110	560	500	EIXO
Charge (10-11/1942)	220	1100	900	ALIADOS
	110	550	350	EIXO

Fonte: tabela compilada com dados de vários livros da Coleção **História Ilustrada da Segunda Guerra Mundial** editadas pela Renes no Rio de Janeiro durante a década de setenta. Alguns dados foram arredondados para facilitar a análise.

A relação comparativa dos dados acima possibilita várias conclusões. Uma das mais significativas é que:

- lado vencedor foi aquele que tinha, nas quatro operações citadas, mais aviões de combate.
- tanto nas vitórias como nas derrotas, as forças do Eixo estavam em inferioridade de carros e aviões de combate.
- os efetivos militares, tanto dos Aliados quanto do Eixo, foram aumentando ao longo do tempo considerado na tabela.
- quando os Aliados foram vencedores, eles tinham uma superioridade numérica de dois por um, nos três itens indicados.
- Eixo obteve as suas vitórias durante o inverno norte-africano, e os Aliados, durante o verão da região.

7ª QUESTÃO

O auge político da França na Idade Moderna coincidiu com o longo reinado de Luís XIV (1643-1715). À frente do mais poderoso exército europeu da época, com 170.000 homens, o “Rei Sol” envolveu-se em diversas guerras, conflitos esses que tiveram repercussão, muitas vezes, fora do território da Europa.

O último deles, o mais difícil e importante, que marcou o início do declínio do Antigo Regime e teve consequências inclusive na América, com as assinaturas dos Tratados de Utrecht, foi a Guerra

- A. dos Sete Anos.
- B. das Frondas.
- C. da Sucessão da Espanha.
- D. da Liga de Augsburg.
- E. dos Trinta Anos.

8ª QUESTÃO

"É este o momento lógico e histórico de nossa intervenção. Nossos antigos aliados (Alemanha e Áustria) sempre tiveram interesses próprios, diferentes dos da Itália. Não nos impediram de concluir acordos com a Inglaterra e com a França e de encontrar na Rússia, a propósito da questão da Líbia, um apoio mais espontâneo e simpático do que junto aos nossos aliados. (...). Para participar do equilíbrio europeu, a Itália (...) enfrentava o incrível paradoxo de estar aliada com a sua natural inimiga, a Áustria. (...). Chegou o dia no qual a Itália teve que decidir-se pelos Aliados."

Discurso do deputado Vittorio Emanuele Orlando, no Teatro Massimo de Palermo, em 21 de novembro de 1915. In JANOTTI, Maria de Lourdes. *A Primeira Grande Guerra - o confronto de imperialismos*. São Paulo: Atual, 1992. Pág. 34-35.

O texto acima demonstra a opção da Itália de entrar na Primeira Guerra Mundial ao lado de Inglaterra, França e Rússia, desprezando antigos aliados como Alemanha e Áustria. Entretanto, o texto também refere-se à Áustria como a "natural inimiga" da Itália, o que contribuiu para a sua posição no conflito. Esta situação de “natural inimiga” ocorreu devido

- A. à constante busca austríaca de uma saída para o mar através da Itália.
- B. à ocupação austríaca dos territórios considerados "italianos", como Trieste e Trento.
- C. ao revanchismo gerado pela derrota da Itália na guerra Austro-prussiana.
- D. à concorrência imperialista austríaca junto à Líbia.
- E. ao fracasso italiano perante os austríacos na conquista da Etiópia.

9ª QUESTÃO

Leia o trecho abaixo, adaptado da letra de "Seconds" do grupo de rock irlandês "U2", e responda o item a seguir.

"SEGUNDOS"

"Em um apartamento em Times Square,
Você pode parlamentar a qualquer hora.
Prisão para resgatar, inferno para pagar
Uma revolução todo dia.
URSS, RDA *, Londres, Nova Iorque e Pequim
São os fantoches,
São os fantoches, que tocam ..."

* República Democrática Alemã = Alemanha Oriental.

Os países e as cidades citadas referem-se a cinco importantes pólos de poder militar durante o período da Guerra Fria (1945-91). Sobre eles pode-se afirmar que:

- A. dois ainda permanecem sob uma estrutura econômica socialista e com um sistema de partido único.
- B. dois deles pertenciam, no período da Guerra Fria, à OTAN, dois ao Pacto de Varsóvia e um era não-alinhado.
- C. todos situam-se ou constituem-se em países que, atualmente, pertencem ao Conselho de Segurança da ONU como membros permanentes, com direito de veto.
- D. dois deles eram, no período da Guerra Fria, socialistas e três capitalistas.
- E. todos são, atualmente, centros desenvolvidos do capitalismo globalizado.

10ª QUESTÃO

O renascimento cultural ocorrido na Europa Ocidental durante os séculos XIV, XV e XVI, teve repercussão em vários campos da atividade humana. Na literatura, destacaram-se Petrarca, Erasmo e Thomas Morus, que escreveram, respectivamente

- A. "Othelo" – "O Príncipe" – "Jerusalém Libertada".
- B. "Decameron" – "A Mandrágora" – "Ricardo III".
- C. "Orlando, o Furioso" – "Dom Quixote" – "Ensaio".
- D. "De África" – "Elogio da Loucura" – "Utopia".
- E. "A Divina Comédia" – "A Doação de Constantino" – "Gargântua e Pantagruel".

11ª QUESTÃO

O trecho abaixo está relacionado com a Guerra da Criméia (1853-56). Leia-o e responda o item a seguir.

"A TROPA"

"Os cavalos suavam com terror quando começamos a correr

O poderoso troar dos canhões russos

E nós avançamos como uma parede humana

Os gritos de dor quando os nossos companheiros caíam

Os nossos corpos empilhavam-se no terreno

E os Russos voltavam a atirar

Nós chegamos tão perto, porém estávamos muito longe

Nós ganhamos a vida para lutar um outro dia."

Esta descrição da carga da Brigada de Cavalaria Ligeira contra a fortaleza russa de Balaclava foi adaptada da letra "The Trooper" do grupo de rock inglês "Iron Maiden". Na Guerra da Criméia, a Inglaterra aliou-se à França e ao Piemonte para impedir a expansão russa contra a:

- A. Alemanha.
- B. Bélgica.
- C. China.
- D. Polônia.
- E. Turquia.

12ª QUESTÃO

Entre os anos de 1812 e 1814, durante o governo do presidente James Madison, os EUA se envolveram na chamada Segunda Guerra de Independência contra a Inglaterra. Dentre os principais fatores que deram origem a este conflito podemos destacar

- A. sentimento de vingança, o resgate do moral do Exército Britânico frente aos súditos ingleses, além da tentativa de anexação do Novo México.
- B. a disputa de territórios como o Oregon e a Flórida, além da impossibilidade de realizar o livre comércio no Atlântico.
- C. apresamento de navios norte-americanos, bem como o recrutamento de seus tripulantes pelos ingleses.
- D. os ataques indígenas insuflados pelos súditos ingleses do Canadá contra os americanos e a invasão do território da Virgínia pelos britânicos.
- E. a pretensão de colonos norte-americanos sobre as terras do Canadá e a compra do Alasca pelos EUA à Rússia, criando um impasse estratégico.

13ª QUESTÃO

No ano de 1861, Vítor Emanuel II foi proclamado Rei da Itália. A partir daí, várias conquistas territoriais foram conseguidas, concluindo o que viria a ser o "Estado Italiano". Entretanto, nem só de ganhos territoriais preencheu-se a unificação italiana. Para conseguir o apoio de Napoleão III contra a Áustria, os italianos comprometeram-se em ceder duas províncias à França, que foram

- A. Piemonte e Veneza.
- B. Lombardia e Toscana.
- C. Córsega e Sardenha.
- D. Sicília e Nápoles.
- E. Nice e Sabóia.

14ª QUESTÃO

Leia o texto a seguir:

Combater, combater as hordas sarracenas
Nós servimos ao rei guerreiro
Em frente, cavalguem para frente em direção à luta
Carregamos o sinal da cruz
Senhores da guerra da Inglaterra, cavaleiros do Reino
Derramando seu sangue na areia
Cruzado, Cruzado, a lenda nasce
O futuro glorificará seus feitos

Este trecho da letra da música *Crusader*, do grupo de rock inglês *Saxon*, reporta-se diretamente ao episódio da História conhecido como “as Cruzadas”, expedições militares contra os inimigos dos cristãos, legitimadas pela Igreja Católica, entre os anos de 1096 e 1270. A estrofe acima fala de um importante rei inglês, Ricardo Coração de Leão, um dos comandantes da Terceira Cruzada (1189-1192). Podemos afirmar que uma das conseqüências desta cruzada foi

- A. a assinatura de um tratado de paz com Saladino, que autorizou as peregrinações a Jerusalém.
- B. a conquista de Jerusalém, que foi transformada num reino governado por europeus.
- C. massacre de uma multidão de indivíduos pobres, liderados por Pedro, o Eremita.
- D. a vitória dos reis europeus sobre os muçulmanos, na batalha de Fajayra.
- E. a fragmentação do império turco otomano, ocasionada pela ação de Kahlil Khan.

15ª QUESTÃO

Em uma das questões desta prova, está sendo citado o nome de um conjunto de rock inglês, o “New Model Army” (Novo Modelo de Exército). O surgimento do “New Model Army” (o Exército, não o conjunto de rock) teve importância fundamental na composição das forças terrestres modernas, estendendo sua influência até os dias de hoje. E ele está relacionado a um dos conflitos ocorridos na Inglaterra. Falamos da

- A. Revolução Gloriosa.
- B. Guerra Civil.
- C. Invencível Armada.
- D. Guerra das Duas Rosas.
- E. Guerra da Restauração.

16ª QUESTÃO

Observe os dados da tabela abaixo e responda o item a seguir:

Países	Independência	População (x 1000)
Argentina	1816	1.100
Bolívia	1825	1.374
Brasil	1822	7.205
Chile	1818	1.287
Colômbia	1830	2.243
Costa Rica	1838	125
Cuba	1902	1.186
El Salvador	1838	394
Equador	1821	816
Guatemala	1838	850
Haiti	1804	938
Honduras	1838	350
México	1821	7.662
Nicarágua	1838	300
Panamá	1903	-
Paraguai	1811	500
Peru	1821	1.888
Rep. Dominicana	1844	200
Uruguai	1828	132
Venezuela	1830	1.490

Fonte: SÁNCHEZ-ALBORNOZ, Nicolás. **La Población de América Latina**. 2ed, Madrid, Alianza, 1977. P. 183. Os dados

referem-se ao ano de 1850 e a população do Panamá está incluída na da Colômbia.

Relacionando-se as datas finais de independência dos países da América Latina com as suas populações pode-se concluir, dentre outros aspectos, que:

- A. os dez primeiros países mais populosos em 1850 conquistaram a sua independência até 1830 e os outros dez somente depois desta data.
- B. país mais populoso e o menos populoso, em 1850, conquistaram as suas independências no mesmo ano, em 1838.
- C. somente países insulares de língua castelhana e com pequena população em 1850 é que continuaram dependentes no século XX.
- D. os países centro-americanos tinham, em 1850, uma população maior que a do único país latino-americano situado na América do Norte.
- E. se as colônias espanholas da América do Sul estivessem unidas em 1850, elas teriam uma população superior à do Brasil, no mesmo ano.

GEOGRAFIA

17ª QUESTÃO

A economia canadense, uma das mais poderosas do mundo, caracteriza-se por elevado nível industrial e de serviços, bem como por apresentar uma agricultura moderna e bastante expressiva.

Sobre a economia do Canadá, assinale a opção correta:

- A. A grande extensão de florestas facilita a extração de madeira, contribuindo para o desenvolvimento da indústria canadense, em especial, de papel e celulose.
- B. A região ocidental do país apresenta grande concentração populacional, contribuindo desta maneira para o desenvolvimento das atividades agrícolas.
- C. Apesar das técnicas modernas e altamente produtivas, o relevo e o clima do Canadá não permitem a prática da agricultura, obrigando o país a ser um grande importador de cereais.
- D. Toronto e Quebec, situadas na Colúmbia Britânica, representam os dois maiores centros industriais do país.
- E. Na região dos Grandes Lagos e vale do rio São Lourenço, desenvolve-se uma pecuária extensiva para a produção de carne.

18ª QUESTÃO

A criação da Alca faz parte do processo de formação de grandes blocos regionais que começou em meados do século passado e ganhou força nos anos 80 e 90. Ao apostar na formação de um grande bloco regional, os EUA poderão consolidar ainda mais sua liderança mundial, aumentando seu poder político em fóruns internacionais como o FMI e a OMC.

Fonte: adaptado do jornal O Globo, de 15 de abril

de 2001, p. 35

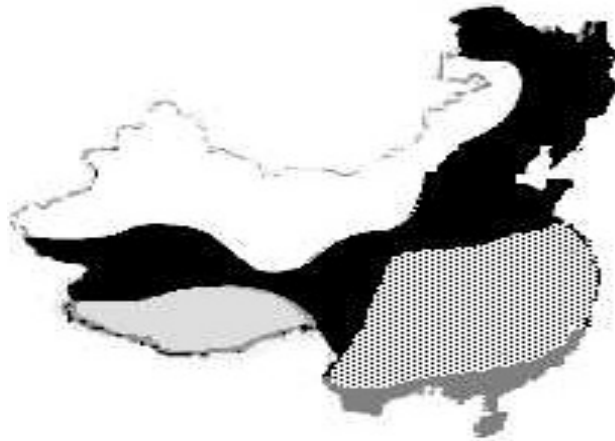
Considerando as características que envolvem o processo de formação de blocos econômicos, em especial da Área de Livre Comércio das Américas (Alca), e analisando o texto acima pode-se afirmar que

- A. concomitantemente ao processo de globalização, o aumento do comércio regional, como se pretende com a Alca, é uma tendência atual.
- B. a entrada dos EUA em um grande bloco econômico é uma necessidade atual e urgente, que poderá levá-lo à liderança da economia mundial.
- C. historicamente, a criação de um grande bloco como a Alca impossibilita a coexistência de outros acordos bilaterais, como por exemplo, o Mercosul.
- D. a criação da Alca será de fato a ampliação do Nafta, incluindo-se tão somente a América do Sul.
- E. a consolidação da Alca homogeneizará as condições socioeconômicas dos países envolvidos nesse mercado.

19ª QUESTÃO

A China possui um vasto território com grandes extensões de terras altas, altiplanos, cadeias montanhosas, terras baixas, baixos planaltos e planícies. Essa diversidade geomorfológica contribui para presença de diversas características climáticas naquele país, podendo-se destacar regiões que apresentam elevadas precipitações influenciadas por massas de ar marítimas, regiões com temperaturas muito baixas em função da altitude e regiões de grandes amplitudes térmicas, com precipitações próximas a zero.

A figura abaixo apresenta a distribuição dos diferentes tipos climáticos da China.



Das alternativas abaixo a única que relaciona corretamente um tipo climático com uma das características citadas é

- A. Temperado, presente nas partes mais altas da China, especialmente na região do Tibete.
- B. Subtropical, influenciada pelas chuvas de monções e onde se concentra grande parte da população chinesa.
- C. Tropical, presente no sudoeste da China e fator responsável pela sua grande produção de algodão.
- D. Árido e Semi-árido, localizado nas regiões mais altas da China.
- E. Frio de montanha, atingindo a maior parte do território chinês.

20ª QUESTÃO

O processo de urbanização é um fenômeno espacial que tem como causas transformações sociais e econômicas e se apresenta de maneira diferenciada no mundo. Sobre a urbanização mundial é correto afirmar que

- A. nos países desenvolvidos a urbanização se iniciou a partir da primeira metade do século XX, em decorrência do desenvolvimento tecnológico.
- B. atualmente cerca de 80 % da população mundial vive na zona urbana, especialmente nas grandes metrópoles.
- C. dentre os continentes, a Ásia apresenta as mais altas taxas de urbanização.
- D. na América Latina, com exceção dos países Argentina, Uruguai e Brasil, a população rural é superior à população urbana.
- E. na África, o ritmo de transferência de populações do campo para a cidade é crescente, apesar do predomínio das atividades agrárias na estrutura econômica de quase todos os países do continente.

21ª QUESTÃO






Sobre o processo de globalização e suas conseqüências assinale a opção correta :

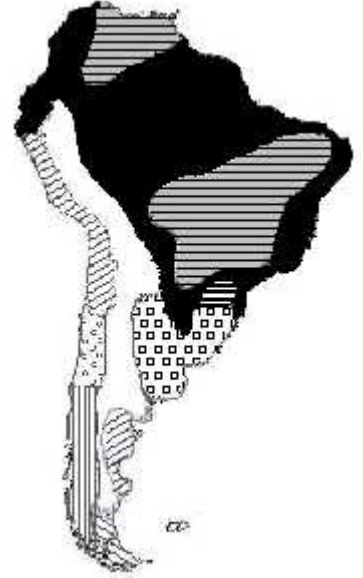
- A. Com o aumento da competitividade tem ocorrido uma diminuição das relações comerciais entre os países de um mesmo bloco econômico, fazendo com que esses busquem novos mercados.
- B. A formação dos blocos regionais consolidou a valorização comercial dos países através do mecanismo de reserva de mercado, permitindo o crescimento da autonomia dos Estados na definição de suas políticas internas.
- C. A globalização aumenta o fluxo de mercadorias, capitais, pessoas e informações, possibilitando acordos que resultam em mercados comuns, uniões aduaneiras ou simplesmente áreas de livre comércio.
- D. processo de regionalização permitiu a formação de inúmeros blocos econômicos que têm como objetivo final o estabelecimento de uma união aduaneira, a exemplo da União Européia.
- E. Com a globalização, a maioria das grandes empresas não possuem sequer uma fábrica, não empregam operários, entretanto, são elas que faturam milhões, usando apenas estratégias de produção e marketing, atuando somente em compra e venda de ações.

22ª QUESTÃO

A composição das formações vegetais obedece a determinados fatores, em especial, o clima e relevo. Abaixo estão representados as principais formações vegetais da América do Sul.

A alternativa que apresenta a legenda e sua verdadeira correlação com a formação vegetal e seus respectivos fatores é

- A.  Floresta aciculifoliada dominada por um clima tropical quente e úmido e por um relevo de planalto.
- B.  Estepes características de regiões montanhosas e de clima tropical quente e seco.
- C.  Vegetação xerófila dominada por um clima semi-árido e relevo de planície.
- D.  Pradarias características de regiões de clima temperado e topografia plana.
- E.  Savanas dominada por um clima subtropical e relevo de planície.



23ª QUESTÃO

Às 09:00 h de uma segunda-feira parte da cidade de Natal (RN) um avião com destino a Kinshasa (Capital da República Democrática do Congo). O tempo de viagem é de 5 horas. O avião pousa em Kinshasa às 18:00 h, horário local. Sabendo-se que a circunferência da Terra na linha do Equador corresponde a aproximadamente 40.000 Km e desprezando-se os cinco graus que separam as duas cidades da latitude 0°, é possível afirmar que a distância entre as duas cidades é de aproximadamente

- A. 2.500 km
- B. 6.500 km
- C. 15.500 km
- D. 10.500 km
- E. 12.500 km

24ª QUESTÃO

A tabela abaixo foi extraída do caderno de previsão do tempo de um jornal.

Cidade	Temperatura Mínima	Temperatura Máxima
Bogotá	11	18
Buenos Aires	0	10
Estocolmo	12	21
Havana	23	29
Jerusalém	20	29
Londres	12	22
Santiago	0	15
Moscou	8	20
Nova York	22	29
Sydney	11	18

Da simples observação dos dados acima é possível afirmar que

- A. a tabela pode representar um dia de equinócio.
- B. nesse dia as cidades mais frias são as de menores latitudes.
- C. a tabela pode representar um dia do mês de agosto.
- D. as cidades de maiores amplitudes térmicas diárias possuem as menores longitudes.
- E. os dados podem representar o final do outono em Londres.

25ª QUESTÃO

No continente europeu encontram-se alguns dos países mais desenvolvidos e industrializados do mundo. Sobre as características industriais de alguns países europeus é correto afirmar que

- A. a Alemanha abriga um dos maiores complexos industriais do mundo, concentrado na margem esquerda do rio Ródano.
- B. no sul da Itália, região correspondente à planície do rio Pó, são encontradas as cidades industriais com elevado nível de vida.
- C. a região Renana, na França, conhecida por seus importantes centros industriais, é cortada pelos rios Reno e Volga.
- D. no Reino Unido, as indústrias de bens de capital se instalaram próximas das jazidas de carvão e ferro, na região de Belfast e Dublin.
- E. porto de Roterdã, situado nos Países Baixos, é considerado uma das mais importantes portas de entrada e saída de produtos do continente europeu.

26ª QUESTÃO

A tabela abaixo apresenta indicadores sociais da Ásia Meridional.

País	Densidade Demográfica (hab/km ²)	Expectativa de vida /homem	Expectativa de vida / mulher	Mortalidade Infantil (‰)	Analfabetismo (‰)
Bangladesh	861,0	57	59	77	61,9
Butão	40,4	52	55	105	57,8
Maldivas	946,3	65	63	50	6,8
Índia	296,8	62	63	65	48,0
Nepal	157,6	57	57	85	72,5
Paquistão	185,6	62	65	88	62,2
Sri Lanka	281,9	71	75	15	9,8

Fonte : Almanaque Abril 1999

Com base nos dados apresentados, é correto afirmar que

- A. Bangladesh é o país mais povoado de toda Ásia Meridional.
- B. a Índia, um dos países mais populosos do mundo, não é o mais povoado da Ásia meridional.
- C. os países com menores densidades demográficas apresentam as melhores condições de vida para a população.
- D. quanto mais povoado o país da região, mais elevada é a sua taxa de mortalidade infantil.
- E. as altas taxas de mortalidade infantil contribuem diretamente para a longevidade da população desta região.

27ª QUESTÃO

A Questão Palestina, a luta do povo palestino pela recuperação de seus territórios e a criação de Estado autônomo, envolve um complexo de países, nacionalidades, etnias, religiões e facções políticas.

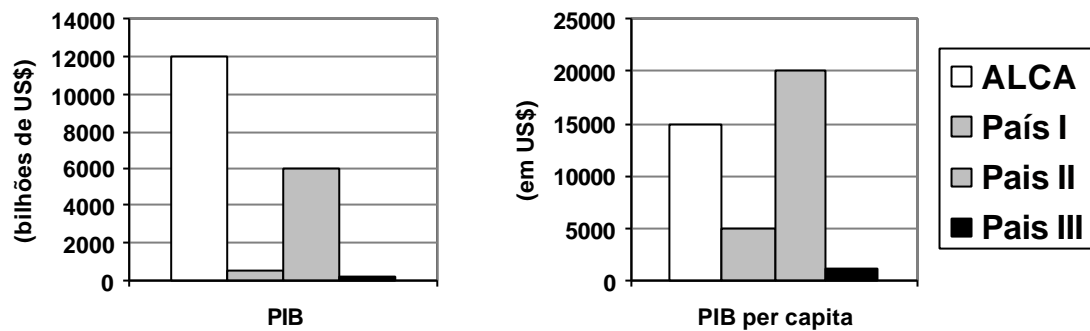
Das alternativas abaixo assinale a única que relaciona respectivamente o país envolvido e suas características sócio-políticas:

- A. Líbano, ao norte das regiões envolvidas, possui uma população de maioria curda, adepta do Judaísmo e tem como facção política predominante a xiita.
- B. A Palestina, centro dos problemas, é formada por povos árabes, de religião islâmica com destaque para o Sionismo.
- C. Israel, país que engloba todas as áreas envolvidas no conflito, tem um povo semita, judeus de maioria sunita.
- D. Egito, ao sul da Palestina, tem uma população árabe, porém de maioria cristã.
- E. A Jordânia, ao leste da Palestina, é um país árabe, muçulmano, onde predomina uma maioria sunita.

28ª QUESTÃO

Foi realizado em abril deste ano, na cidade de Quebec no Canadá, a III Cúpula das Américas, com o objetivo de discutir, dentre outros assuntos, a criação de uma área de livre comércio nas Américas. Da ALCA deverão participar todos os países do continente, exceto Cuba. Serão envolvidos, portanto países com diferentes características socioeconômicas.

O quadro abaixo apresenta alguns dados relativos à ALCA em comparação com dados de alguns países envolvidos:



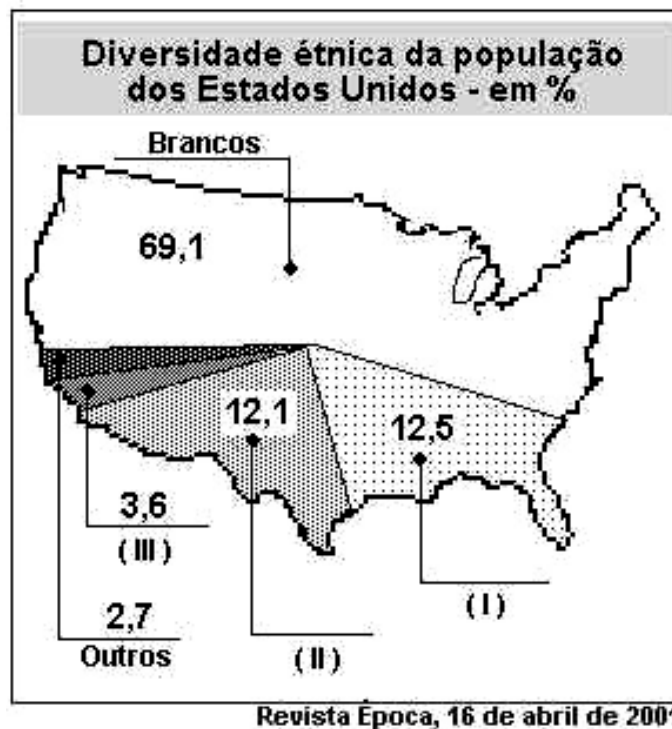
Fonte: Almanaque Abril, 2000/ Revista Época, 23 de abril de 2001

Levando em consideração as características socioeconômicas dos países envolvidos, os países I, II e III vistos no gráfico podem representar, respectivamente

- A. Honduras, México e Venezuela.
- B. Chile, EUA e El Salvador..
- C. Equador, Argentina e Chile
- D. Uruguai, Argentina e Panamá.
- E. Paraguai, Canadá e México.

29ª QUESTÃO

Os dados abaixo, adaptados da revista Época, de 16 de abril de 2001, referem-se ao último censo norte-americano realizado no ano passado.



“Dados do Censo no ano passado indicam que (I) são hoje 35,3 milhões de americanos. Desde o último recenseamento, em 1990, a comunidade (I) teve um crescimento de cerca de 60%. É hoje o segmento que mais cresce nos EUA.

Mas não foram só os números que mudaram. Os (I) são o grupo com menor acesso à educação formal. Daí o desemprego entre eles ser o dobro do registrado no resto da população.”

Levando em consideração as recentes mudanças no perfil demográfico norte-americano, citadas no texto, e os dados do censo 2000, é correto afirmar que os números I, II e III correspondem, respectivamente, aos grupos de

- A. Negros, Latinos e Asiáticos.
- B. Negros, Asiáticos e Latinos.
- C. Asiáticos, Latinos e Negros.
- D. Latinos, Negros e Asiáticos.
- E. Latinos, Asiáticos e Negros.

30ª QUESTÃO

Muitos especialistas internacionais comparam a Índia ao Brasil. Segundo eles, esses países possuem muitas características em comum. Abaixo estão citadas algumas das principais características do Brasil.

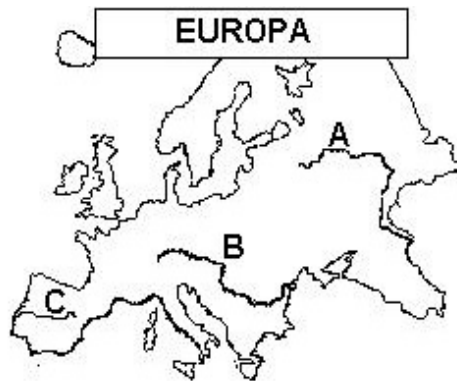
- I. Possui uma História escrita recente, que remonta ao período das Grandes Navegações.
- II. País em desenvolvimento com forte parque industrial.
- III. Possui grandes cidades que estão entre as maiores do mundo.
- IV. Apesar de sua grande extensão territorial, o país possui uma unidade étnico-cultural.
- V. Parte de seu território se encontra na faixa intertropical.

Das características brasileiras citadas, são comuns à Índia

- A. I, II e III.
- B. II, III, e V.
- C. II e IV.
- D. III, IV e V.
- E. Todas.

31ª QUESTÃO

O mapa abaixo apresenta três importantes rios da Europa.



A respeito dos rios assinalados é correto afirmar que a letra

- A. "A" representa o rio Tejo, que se destaca pela grande extensão.
- B. "B" representa o rio Danúbio, que se destaca como importante rio de integração, cortando diversos países.
- C. "C" representa o rio Ródano, que se destaca pela importância estratégica em relação a importação de petróleo.
- D. "A" representa o rio Volga, que se destaca por dividir importantes países do leste europeu.
- E. "B" representa o rio Loire, que se destaca pelo escoamento da produção da França.

32ª QUESTÃO

Um avião cruzou a África no sentido nordeste-sudoeste. Foi uma viagem tumultuada. Os passageiros enfrentaram algumas dificuldades, representadas por letras na figura ao lado.

Levando em consideração o sentido do voo e as características dos pontos representados por letras no mapa é possível afirmar que, numa ordem cronológica, os problemas enfrentados, desde o embarque até o pouso do avião, podem ter sido os seguintes:



- A. vôo foi atrasado em duas horas, pois havia a ameaça de que grupos muçulmanos locais teriam armado uma bomba no aeroporto; rajadas de ventos provocaram fortes turbulências no meio da viagem; uma tempestade prejudicou o trabalho de pouso da aeronave.
- B. Uma nevasca cobriu boa parte da pista do aeroporto dificultando a decolagem da aeronave; uma escala no meio da viagem quase se transformou em tragédia quando um grupo de Hutus invadiu a pista de pouso exigindo a retirada dos Tutsis de Ruanda; um incêndio de fortes proporções dificultou a aproximação da aeronave ao seu destino final.
- C. Grandes erupções vulcânicas, em cadeia montanhosa próxima ao aeroporto, provocaram o atraso do embarque; no primeiro terço da viagem, ventos e chuvas fortes causados por instabilidades características do clima equatorial quase obrigaram o piloto a mudar a rota do vôo; grupos rebeldes de origem islâmica provocaram tumulto no desembarque.
- D. Um tumulto no embarque provocado pela presença de ambientalistas que protestavam contra a matança de elefantes na região; rajadas de ventos provocaram fortes turbulências no meio da viagem; o desembarque foi atrasado em duas horas em virtude do protesto de mineradores contra o aumento das importações de petróleo.
- E. embarque atrasou pois havia manifestação de grupos em defesa dos direitos políticos da maioria negra local; uma forte chuva na primeira hora de viagem quase fez com que o piloto mudasse a rota de vôo; uma tempestade prejudicou o trabalho de pouso da aeronave.

Concurso EsPCEX - Gabarito das Provas 2001

MAT	
1	E
2	B
3	C
4	D
5	D
6	E
7	B
8	E
9	C
10	C
11	D
12	D
13	A
14	C
15	E
16	B
17	A
18	E
19	C
20	A
21	D
22	A
23	B
24	C
25	C
26	E
27	B
28	E
29	D
30	C
-	-
-	-

FIS/QUI	
1	C
2	B
3	A
4	B
5	E
6	C
7	D
8	A
9	C
10	D
11	B
12	C
13	A
14	C
15	E
16	B
17	X
18	D
19	B
20	E
21	A
22	C
23	A
24	C
25	B
26	D
27	E
28	C
29	D
30	X
31	C
32	X

HIST/GEOG	
1	E
2	D
3	B
4	E
5	X
6	A
7	C
8	B
9	B
10	D
11	E
12	C
13	X
14	A
15	B
16	E
17	A
18	A
19	B
20	E
21	C
22	D
23	B
24	C
25	E
26	B
27	E
28	B
29	D
30	B
31	B
32	A

INGL/PORT	
1	C
2	D
3	D
4	E
5	C
6	E
7	A
8	D
9	B
10	C
11	B
12	C
13	D
14	E
15	C
16	X
17	D
18	B
19	A
20	C
21	C
22	A
23	B
24	B
25	B
26	C
27	D
28	A
29	E
30	C
31	A
32	B